
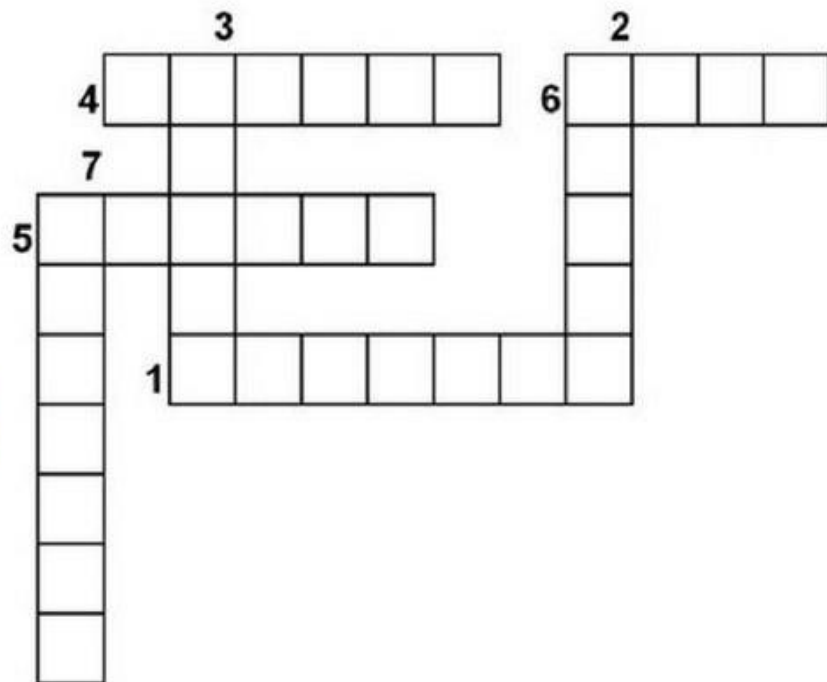



Viernes 3 de abril de 2020

1 Escribe el nombre de estos animales para resolver el crucigrama:



② Escribe tres frases con alguna de las palabras del ejercicio anterior:

③ Dibuja lo siguiente:

Los animales disfrutan estando en libertad.

④ Dictado:

El femenino de caballo es yegua. El plural de zorro es zorros. Son nombres de animales.

5 Calcula:

$56 + 22$

$83 - 49$

$29 + 15$

6 Escribe el anterior y posterior de estos números:

$\square \leftarrow 20 \rightarrow \square$

$\square \leftarrow 30 \rightarrow \square$

$\square \leftarrow 40 \rightarrow \square$

$\square \leftarrow 10 \rightarrow \square$

$\square \leftarrow 71 \rightarrow \square$

$\square \leftarrow 49 \rightarrow \square$

$\square \leftarrow 75 \rightarrow \square$

$\square \leftarrow 68 \rightarrow \square$

$\square \leftarrow 81 \rightarrow \square$

7 Los números pares son el 0, 2, 4, 6 y 8. Los números impares son el 1, 3, 5, 7 y 9. Escribe 5 números que sean pares y 5 que sean impares

Pares: _____

Impares: _____

8 Tenía 52 euros en la cartera y he gastado 25 ¿Cuánto dinero me queda ahora?

Datos:

Operación \rightarrow

Solución:

9 Fijate en el valor de estas monedas:



Dibuja estas cantidades:

60 céntimos

0,15 €

55 céntimos

0,90 €

10 Si decimos que mañana lloverá, ¿qué tendrás que dibujar en el cuadro que hay en blanco?

Viernes 3 de abril	Sábado 4 de abril
