

Viernes 17 de abril de 2020

① Escribe 3 palabras de:

Nombres de persona:

Nombres de animales:

Nombres de plantas:

② Escribe tres frases con alguna de las palabras del ejercicio anterior:

③ Dibuja lo siguiente:

La tormenta arrancó el árbol de la plaza.

4 Dictado:

¿Cuál es tu nombre? Me llamo Antonio.

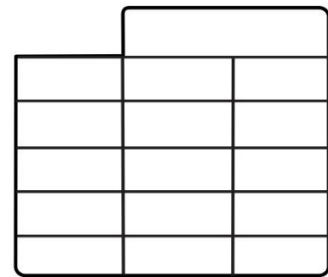
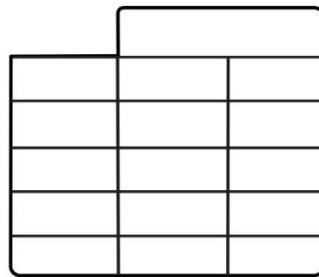
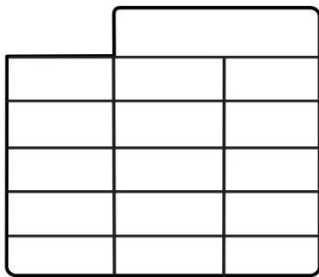
¿Y tu edad? Tengo siete años.

5 Calcula:

$76 + 11$

$83 - 39$

$39 + 35$



6 Escribe el anterior y posterior de estos números:

$\square \leftarrow 21 \rightarrow \square$

$\square \leftarrow 31 \rightarrow \square$

$\square \leftarrow 41 \rightarrow \square$

$\square \leftarrow 11 \rightarrow \square$

$\square \leftarrow 71 \rightarrow \square$

$\square \leftarrow 59 \rightarrow \square$

$\square \leftarrow 65 \rightarrow \square$

$\square \leftarrow 58 \rightarrow \square$

$\square \leftarrow 91 \rightarrow \square$

7 Los números pares son el 0, 2, 4, 6 y 8. Los números impares son el 1, 3, 5, 7 y 9. Escribe 5 números que sean pares y 5 que sean impares

Pares: _____

Impares: _____

8 Tenía 45 euros en la cartera y he gastado 21 ¿Cuánto dinero me queda ahora?

Datos:

Operación →

Solución:

9 Fíjate en el valor de estas monedas:



Dibuja estas cantidades:

70 céntimos

0,25 €

65 céntimos

0,30 €

10 Piensa en dos objetos fabricados con:

Madera →

Cristal →

Plástico →

Algodón →