

Jueves 2 de abril de 2020

❶ Rodea los verbos de estas oraciones:

El lagarto trepa por el árbol.

Su equipo ganó el partido.

Mañana lloverá por la noche.

❷ Clasifica las tres oraciones anteriores en presente (ahora), pasado (ya fue) o futuro (será)

Presente	
Pasado	
Futuro	

❸ Dibuja lo siguiente:

Juego a un juego de mesa con mi familia

4 Copiado:

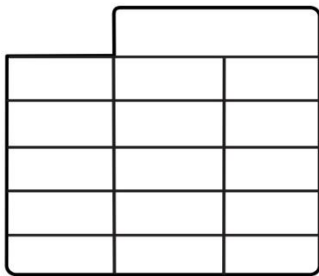
Antonio me dijo anoche que llovería.

Hice la compra ayer en el supermercado

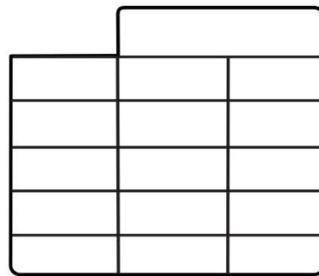
El partido de fútbol será el domingo.

5 Calcula:

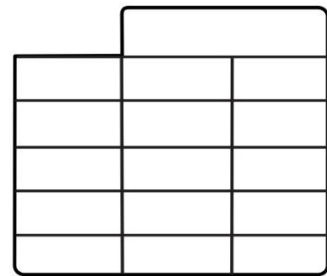
$44 - 16$



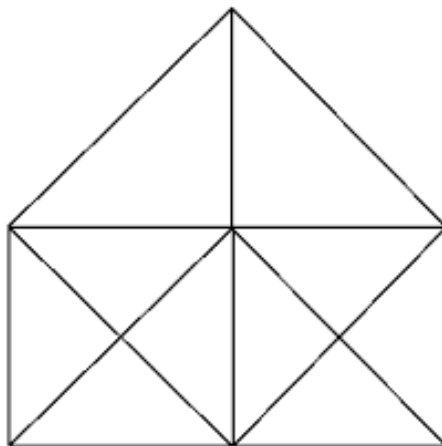
$54 + 32$



$60 - 21$



6 ¿Cuántos triángulos ves en esta imagen?



7 Escribe 10 números mayores que 70 pero menores de 100

8 En el huerto hay sembrados 50 plantas de patatas y 28 plantas de zanahorias ¿Cuántas plantas hay en total en el huerto?

Datos:

Operación →

Solución:

9 Escribe verdadero o falso:

El agua no tiene olor, ni sabor, ni color.

Los seres vivos no necesitamos agua para vivir.

El termómetro mide la cantidad de lluvia.

Hay agua dulce y agua salada

10 Como si fueras un presentador de las noticias, dibuja un mapa del tiempo que hará en España:



